

Annem sabah dedi bana,
Haydi yavrum kalk okula.
Hiç uyanmak istemedim,
Doyamadım ki uykuya.



Rüyamda peri olmuşum,
Gökyüzünde geziyorum,
Benden yardım isteyene,
Hemen uçup gidiyorum.



Kahvaltıda ballar olsa,
Bardağıma sütler dolsa,
Aklım yine de uykuda,
Keşke bugün tatil olsa.



Hasan YILDIRIM

(İlk 3 soruyu metne göre cevaplayınız.)

1) Çocuğa sabah uyanması için kim seslenmiş?

A) Annesi B) Babası C) Ablası

2) Çocuk rüyasında ne olmuş?

A) Prenses B) Peri C) Pilot

3) Metin ile ilgili verilen bilgilerden hangisi yanlıştır?

- A) Metnin türü şiirdir.
B) Şairi Hasan Yıldırım'dır.
C) Başlığı 'Okul Sevgisi' olabilir.

4) Aşağıdakilerden hangisi cümle değildir?

- A) Annem dedi
B) Uyanmak
C) Doyamadım

5) "Bu hafta Türkçe dersinde cümle bilgisini"

Yukarıdaki cümle hangi kelime ile tamamlanamaz?

- A) işledik
B) öğrendik
C) döndük

6) Aşağıdaki cümlelerden hangisi haber bildirmektedir?

- A) Kütüphaneden kitap aldım.
B) Kitap okumayı seviyorum.
C) Sen de kitap okumalısın.

7) “Keşke kardeşim de burada olsaydı.”

Yukarıdaki cümle ile ilgili hangi ifade doğrudur?

- A) Duygu bildirmektedir.
- B) Düşünce bildirmektedir.
- C) İstek bildirmektedir.

8) Aşağıdaki çarpma işlemlerinden hangisinin sonucu diğerlerinden farklıdır?

A) 75	B) 35	C) 125
$\begin{array}{r} \times 5 \\ \hline \end{array}$	$\begin{array}{r} \times 13 \\ \hline \end{array}$	$\begin{array}{r} \times 3 \\ \hline \end{array}$

9) Yandaki çarpma işleminin sonucu ile ilgili hangi ifade doğrudur?

$$\begin{array}{r} 249 \\ \times 4 \\ \hline \end{array}$$

- A) İki basamaklı bir sayıdır.
- B) Çift sayıdır.
- C) Onlar basamağındaki rakamın basamak değeri 9'dur.

10) Hangi işlemin sonucu diğerlerinden daha büyüktür?

- A) 63×10
- B) 45×10
- C) 5×100

11) $27 \times 10 = \triangle$ $6 \times 100 = \square$

Buna göre “ $\triangle + \square$ ” işleminin sonucu kaçtır?

- A) 672
- B) 927
- C) 970

12) Tanesi 10 lira olan zekâ küplerinden 2 düzine alan Eymen, satıcıya kaç lira ödemiştir?



- A) 20
- B) 200
- C) 240

13) “Maddenin hâli vardır. Bunlar, vedır.”

Yukarıdaki paragrafta boş bırakılan yerlere sırası ile hangi kelimeler gelmelidir?

- A) üç - katı - ıslak - buhar
- B) iki - sert - yumuşak - hava
- C) üç - katı - sıvı - gaz

14) Aşağıdakilerden hangisi sıvı maddeye örnektir?



15) Yandaki görsel maddenin hangi hâline örnektir?



- A) Katı B) Sıvı C) Gaz

16)



Katı






Sıvı



Gaz

Yukarıda verilenler hangi seçenekte doğru eşleştirilmiştir?

- A)  B)  C) 

17) Aşağıdakilerden hangisi temel ihtiyaçlarımızdan biri değildir?

- A) Beslenme
B) Giyinme
C) Yüzme

18) Hangisi aile bütçesini korumaya özen gösteren birinin öncelikle alacaklarından değildir?

- A)  B)  C) 

19) Aile bütçesine katkı sağlamak için hangisini yapmamız doğru değildir?

- A) Evdeki kaynakları tasarruflu kullanmak
B) İsteklerimizi almak için harçlık biriktirmek
C) Okuldan sonra çalışıp para kazanmak

20) Tuncay ile babası hafta sonunda kışlık kıyafet alışverişine çıkmışlar. Tuncay gördüğü bisikleti aldirmek istemiş ancak babası aile bütçelerinin henüz buna müsait olmadığını söylemiştir.



Bu durumda Tuncay'ın hangisini yapması doğru olur?

- A) Ağlayarak babasını ikna etmesi
B) Bisiklet için harçlık biriktirmesi
C) Kendisine alınacak olan kışlık kıyafetlerden vazgeçmesi

Cevap Anahtarı

1-A 2-B 3-C 4-B 5-C 6-A 7-C 8-B 9-C 10-A 11-C 12-C 13-C 14-B 15-C 16-A
17-C 18-A 19-C 20-B

Sınava Ait Konu ve Kazanım Listesi

Ders	Konu	Kazanım
Türkçe	Cümle Bilgisi	
Matematik	Eldeli ve Eldesiz Çarpma İşlemi 10 ve 100 ile Kısa Yoldan Çarpma	M.3.1.4.3. İki basamaklı bir doğal sayıyla en çok iki basamaklı bir doğal sayıyı, en çok üç basamaklı bir doğal sayıyla bir basamaklı bir doğal sayıyı çarpar. M.3.1.4.4. 10 ve 100 ile kısa yoldan çarpma işlemi yapar.
Fen Bilimleri	Maddenin Hâlleri	F.3.4.2.1. Çevresindeki maddeleri, hâllerine göre sınıflandırır.
Hayat Bilgisi	Harcama Yaparken	HB.3.2.8. İstek ve ihtiyaçlarını karşılarken kendisinin ve ailesinin bütçesini korumaya özen gösterir.